


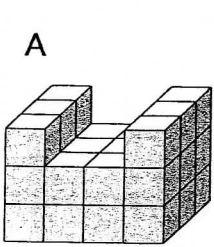
Name: _____

Datum: _____

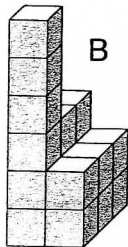
Sichtbare und unsichtbare Würfel



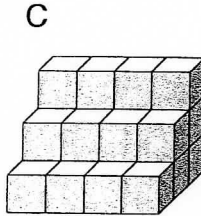
① Aus wie vielen Einheitswürfeln bestehen die Würfelgebäude? Trage die Anzahlen ein.



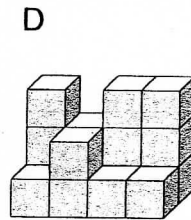
_____ Würfel



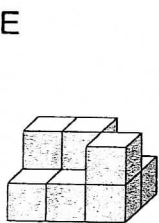
_____ Würfel



_____ Würfel



_____ Würfel



_____ Würfel

② Welcher Bauplan passt zu welchem Würfelgebäude aus Aufgabe ①?

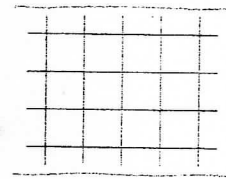
a) Trage die Buchstaben ein.


b) Zwei Baupläne fehlen. Zeichne sie.

2	2	1
1	1	2

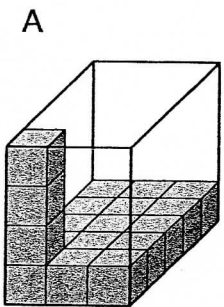
3	2	3	3
1	2	1	1

3	2
3	2
6	2

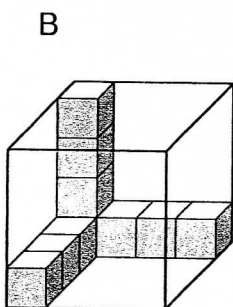




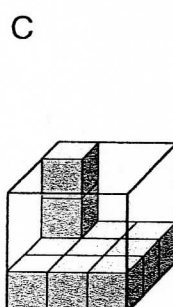
③ Wie viele Würfel passen in jede Schachtel? Trage die Anzahlen ein.



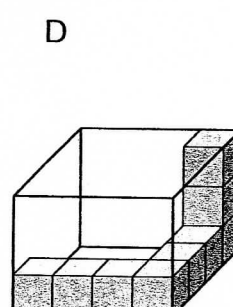
_____ Würfel



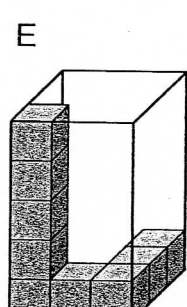
_____ Würfel



_____ Würfel



_____ Würfel



_____ Würfel

